


COMO SABEMOS SE UM ÍMAN É MAIS FORTE QUE OUTRO?

Nome: _____ Turma: _____ Data: ____/____/____

Vamos prever...

O que pensas?




Ordena os ímanes de 1 (mais forte) a 3 (menos forte)...



Vamos registar...

O que observaste?

Indica na tabela o que observaste...

Tipo de ímanes	Número máximo de clips que atraí em "fila"
	
	
	

Vamos concluir...

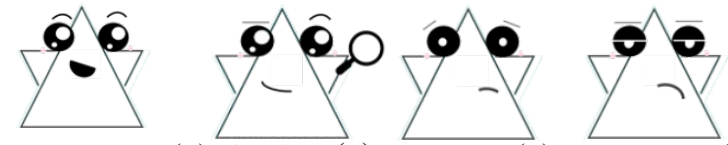
O que concluíste?

Ordena os ímanes de 1 (mais forte) a 3 (menos forte)...



Como te sentiste a fazer a atividade?

(Pinta e/ou desenha)



Surpreendido(a) Curioso(a) Confuso(a) Aborrecido(a)

Outro: _____