

OS ANIMAIS MEDEM E PESAM O MESMO?


Nome: _____ Turma: _____ Data: ____/____/____

Vamos registar...


Quem ganhou?

Pinta o circulo correspondente à categoria que ganhaste na ronda.

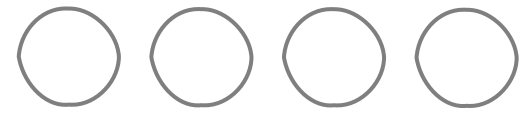
O animal mais alto da ronda




O animal mais baixo da ronda




Não é o animal mais alto nem o mais baixo da ronda




O animal mais comprido da ronda




O animal menos comprido da ronda




Não é o animais mais comprido nem o menos comprido da ronda



O animal mais leve da ronda




O animal mais pesado da ronda




Como te sentiste a fazer a atividade? (Pinta e/ou desenha)



Surpreendido(a)



Curioso(a)



Confuso(a)



Aborrecido(a)

Outro: _____