

A INCLINAÇÃO DE UMA RAMPA INFLUENCIA A DISTÂNCIA PERCORRIDA POR UM OBJETO?

Nome: _____ Turma: _____ Data: ____/____/____




Vamos prever...

O que pensas?
Assinala com X o que pensas...

- A inclinação da rampa não influencia a distância percorrida pelo carro.
- A inclinação da rampa influencia a distância percorrida pelo carro, o carro percorre a maior distância na:
 - Rampa pouco inclinada.
 - Rampa mais ou menos inclinada.
 - Rampa muito inclinada.

Vamos registar...

O que observaste?
Indica na tabela o que observaste...


Inclinação da rampa	Distância percorrida pelo carro (cm)
Pouco inclinada 	
Mais ou menos inclinada 	
Muito inclinada 	


Vamos concluir...


O que concluíste?
Assinala com X o que concluíste...


- A inclinação da rampa não influencia a distância percorrida pelo carro.
- A inclinação da rampa influencia a distância percorrida pelo carro, o carro percorre a maior distância na:
 - Rampa pouco inclinada.
 - Rampa mais ou menos inclinada.
 - Rampa muito inclinada.

Como te sentiste a fazer a atividade?
(Pinta e/ou desenha)


Surpreendido(a)


Curioso(a)


Confuso(a)


Aborrecido(a)

Outro: _____