

# O REVESTIMENTO DE UMA RAMPA INFLUENCIA A DISTÂNCIA PERCORRIDA POR UM OBJETO?

Nome: \_\_\_\_\_ Turma: \_\_\_\_\_ Data: \_\_\_\_/\_\_\_\_/\_\_\_\_




## Vamos prever...

**O que pensas?**  
Assinala com X o que pensas...

- O revestimento da rampa não influencia a distância percorrida pelo carro.
- O revestimento da rampa influencia a distância percorrida pelo carro. O carro percorro a maior distância na:
  - Rampa de borracha.
  - Rampa de madeira.
  - Rampa de alcatifa.

## Vamos registar...

**O que observaste?**  
Indica na tabela o que observaste...


Revestimento da rampa	Distância percorrida pelo carro (cm)
<b>Borracha</b> 	
<b>Madeira</b> 	
<b>Alcatifa</b> 	


## Vamos concluir...


**O que concluíste?**  
Assinala com X o que concluíste...


- O revestimento da rampa não influencia a distância percorrida pelo carro.
- O revestimento da rampa influencia a distância percorrida pelo carro. O carro percorro a maior distância na:
  - Rampa de borracha.
  - Rampa de madeira.
  - Rampa de alcatifa.

**Como te sentiste a fazer a atividade?**  
(Pinta e/ou desenha)

  
 Surpreendido(a)

  
 Curioso(a)

  
 Confuso(a)

  
 Aborrecido(a)

Outro: \_\_\_\_\_