

O REVESTIMENTO DE UMA RAMPA INFLUENCIA A DISTÂNCIA PERCORRIDA POR UM OBJETO?

Nome: _____ Turma: _____ Data: ____/____/____




Vamos prever...

O que pensas?
Assinala com X o que pensas...

- O revestimento da rampa não influencia a distância percorrida pelo carro.
- O revestimento da rampa influencia a distância percorrida pelo carro. O carro percorro a maior distância na:
 - Rampa de lixa.
 - Rampa de madeira.
 - Rampa de plástico.

Vamos registar...

O que observaste?
Indica na tabela o que observaste...


Revestimento da rampa	Distância percorrida pelo carro (cm)
Lixa 	
Madeira 	
Plástico 	


Vamos concluir...


O que concluíste?
Assinala com X o que concluíste...


- O revestimento da rampa não influencia a distância percorrida pelo carro.
- O revestimento da rampa influencia a distância percorrida pelo carro. O carro percorro a maior distância na:
 - Rampa de lixa.
 - Rampa de madeira.
 - Rampa de plástico.

Como te sentiste a fazer a atividade?
(Pinta e/ou desenha)


 Surpreendido(a)


 Curioso(a)


 Confuso(a)


 Aborrecido(a)

Outro: _____