

Nome: \_\_\_\_\_ Turma: \_\_\_\_\_ Data: \_\_\_\_/\_\_\_\_/\_\_\_\_

Vamos prever e registar ...

O que pensas e o que observaste?

Assinala com X o que pensas na primeira coluna e o que observaste na segunda...

Qual a posição mais comum que as plantas têm numa cadeia alimentar?

- Produtores.
- Consumidores.
- Decompositores.
- As plantas não fazem parte das cadeias alimentares.



Os consumidores secundários alimentam-se dos...

- Produtores.
- Consumidores primários.
- Consumidores secundários.
- Consumidores terciários.




Os produtores não se alimentam de outros seres vivos porque...

- Não precisam de alimento.
- Produzem o seu alimento.
- Alimentam-se de seres não vivos.
- Alimentam-se do Sol e solo.




Os herbívoros são sempre consumidores primários.

- Verdadeiro.
- Falso.



Um determinado animal pode ter várias posições em cadeias alimentares?

- Sim.
- Não.



O tubarão é um consumidor secundário, pois tem predadores.

- Sim.
- Não.



A teia alimentar é um conjunto de cadeias alimentares sem relações entre si.

- Verdadeiro.
- Falso.

Os cogumelos são produtores.


- Verdadeiro.
- Falso.



Como te sentiste a fazer a atividade? (Pinta e/ou desenha)



Surpreendido(a)



Curioso(a)



Confuso(a)



Aborrecido(a)

Outro: \_\_\_\_\_