

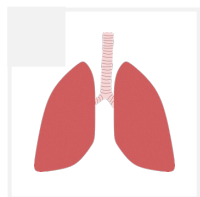
Nome: _____ Turma: _____ Data: ____/____/____

Vamos prever...

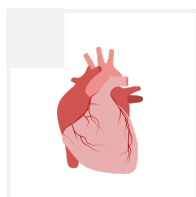
O que pensas?

Assinala o que pensas...

O sistema circulatório é constituído por... (Assinala as várias opções com x)




Pulmões




Coração



Veias



Cérebro



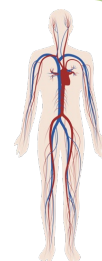
Artérias



Capilares

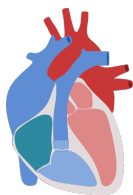
A principal função do sistema circulatório é... (Assinala com x)

- digestão dos alimentos que ingerimos.
- circulação do sangue pelo corpo.
- troca gasosas.



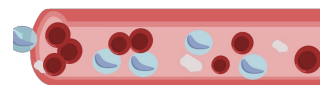
Na pequena circulação o sangue entra no coração pela... (Assinala com x)

- Veia cava.
- Artéria pulmonar.
- Veia pulmonar.

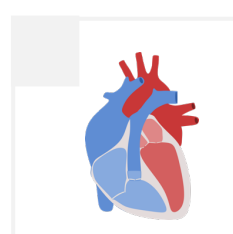
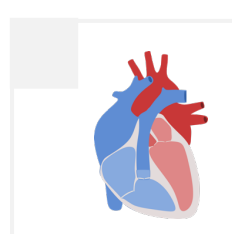
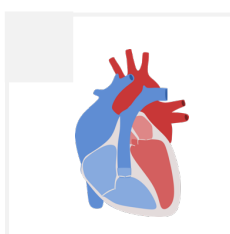
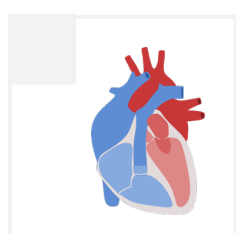
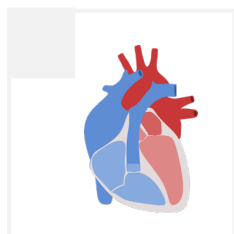


O sangue circula através... (Assinala com x)

- dos vasos sanguíneos.
- da pele.
- dos músculos.



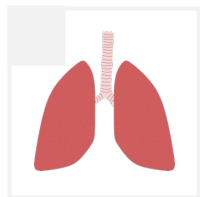
Na grande circulação o sangue circula no coração... (ordena de 1 a 5)



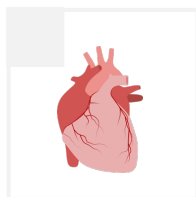
Vamos registar...

O que observaste?
Assinala o que observaste...

O sistema circulatório é constituído por... (Assinala as várias opções com x)




Pulmões



Coração



Veias



Cérebro



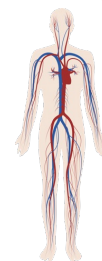
Artérias



Capilares

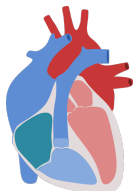
A principal função do sistema circulatório é... (Assinala com x)

- digestão dos alimentos que ingerimos.
- circulação do sangue pelo corpo.
- troca gasosas.




Na pequena circulação o sangue entra no coração pela... (Assinala com x)

- Veia cava.
- Artéria pulmonar.
- Veia pulmonar.

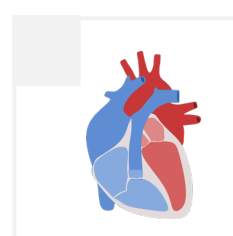
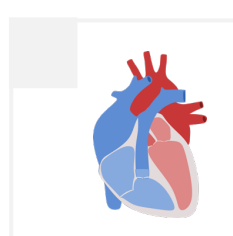
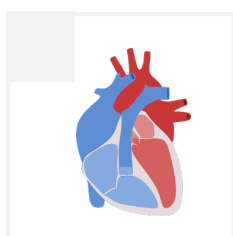
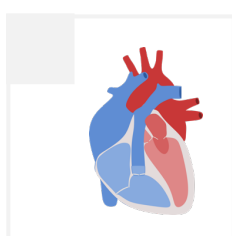
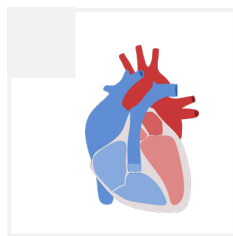


O sangue circula através... (Assinala com x)

- dos vasos sanguíneos.
- da pele.
- dos músculos.



Na grande circulação o sangue circula no coração... (ordena de 1 a 5)



Como te sentiste a fazer a atividade? (Pinta e/ou desenha)



Surpreendido(a)



Curioso(a)



Confuso(a)



Aborrecido(a)

Outro: _____